

2 Formenrätsel

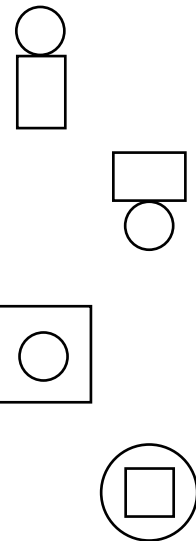
a) Verbinde den Text mit dem passenden Bild!

Ein Kreis liegt in einem Quadrat.

Über einem Rechteck befindet sich ein Kreis.


In einem Kreis ist ein Quadrat.

Den Kreis siehst du unter einem Rechteck.




b) Zeichne nun selbst ein passendes Bild zum Text!

Ein Dreieck liegt zwischen zwei Rechtecken.



In einem Rechteck sind zwei Dreiecke.



Viele weitere Übungen, alle Lösungen sowie eine Probearbeit zu den Flächenformen finden Sie in der Übungsreihe **Geometrische Formen, 2. Klasse**